





درسنامہ و مجموعہ سئوالات



رشتہ علوم تجربی



فصل سوم
مغناطیس



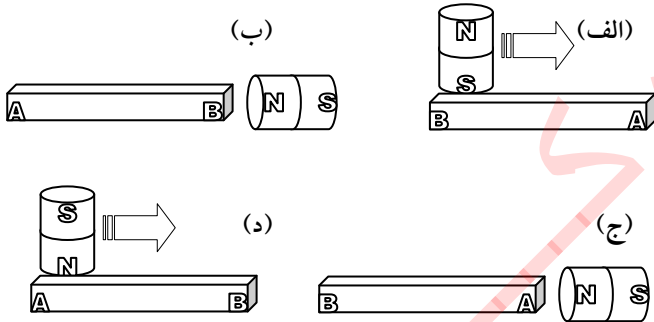
مغناطیس

القای مغناطیسی: ایجاد خاصیت مغناطیسی در موادی مانند آهن را بدون تماس آهن ربا با آنها، القای مغناطیسی می‌نامند. اگر یک قطب آهن ربا را به یک میله آهنی نزدیک کنیم، میله آهنی آهن ربا می‌شود، طوری که سر نزدیک به قطب آهن ربا، ناهمنام با آن می‌شود. یعنی در اثر القای مغناطیسی، همواره جاذبه اتفاق می‌افتد.

مثال ۲: نوک سوزن فولادی را از روبرو به قطب N یک آهن ربا ی تیغه‌ای نزدیک می‌کنیم. در اثر القای مغناطیسی:

(الف) نوک سوزن N و ته آن S می‌شود.
(ب) فقط نوک سوزن N می‌شود.
(ج) نوک سوزن S و ته آن N می‌شود.
(د) فقط نوک سوزن S می‌شود.

مثال ۳: می‌خواهیم میله آهنی AB را طوری آهن ربا کنیم که سر A آن، قطب S و سر B ، قطب N باشد. در کدام یک از شکل‌های زیر روش عمل درست نشان داده شده است؟



عقره مغناطیسی: آهن ربا ی کوچک و سبکی است که بر روی تکیه‌گاه بدون اصطکاکی قرار دارد و می‌تواند به راحتی چرخیده و در راستای میدان مغناطیسی قرار بگیرد. عقره مغناطیسی را قطب‌نما نیز می‌نامند.

میدان مغناطیسی: خاصیتی است در فضای اطراف آهن ربا، که به موجب آن بر هر عقره مغناطیسی که در آن فضا قرار می‌گیرد، نیرو وارد می‌شود. خواهیم دید که میدان مغناطیسی بر بارهای متحرک و رساناهای حامل جریان الکتریکی نیز نیرو وارد می‌کند. میدان مغناطیسی که آن را با \vec{B} نشان می‌دهند، کمیتی است برداری که دارای جهت و اندازه می‌باشد.

تعیین جهت میدان مغناطیسی: بنا به تعریف، جهت میدان مغناطیسی در هر نقطه دلخواه از میدان، در جهت S به n عقره مغناطیسی است که در آن نقطه به حال تعادل قرار گرفته باشد.

خاصیت مغناطیسی: خاصیتی است که برخی از سنگ‌های معدنی مانند Fe_3O_4 دارند و به موجب این خاصیت، مواد آهنی، فولادی، نیکلی و بعضی از آلیاژهای آنها را جذب می‌کنند. این خاصیت در فضای اطراف رساناهای حامل جریان برق نیز وجود دارد.
آهن ربا: موادی که خاصیت مغناطیسی دارند را آهن ربا نیز می‌نامند.

انواع آهن ربا: آهن رباها را به شکل‌های مختلفی می‌سازند که از آن جمله می‌توان به آهن ربا ی میله‌ای، تیغه‌ای، حلقه‌ای و نعلی (L شکل) اشاره کرد.

قطب‌های آهن ربا: در هر آهن ربا، دو ناحیه وجود دارد که شدت خاصیت مغناطیسی در آنها از نواحی دیگر بیشتر است. این دو ناحیه را قطب‌های آهن ربا می‌نامند. محل دقیق قرارگرفتن قطب‌های هر آهن ربا به شکل آن بستگی دارد. همچنین ناحیه‌ای که در وسط دو قطب قرار دارد، به کلی فاقد خاصیت مغناطیسی است و ناحیه خنثی خوانده می‌شود.

نام‌گذاری قطب‌های آهن ربا: اگر یک آهن ربا ی میله‌ای را توسط نخ سبکی از نقطه وسط (گرانیگاه) آن بیاویزیم، همواره یکی از قطب‌های آن در راستای تقریبی شمال جغرافیایی و قطب دیگر در راستای جنوب قرار می‌گیرد. قطبی را که به سمت شمال می‌ایستد، قطب شمال گرا یا قطب شمال نامیده و آن را با N نشان می‌دهیم. قطب دیگر قطب جنوب گرا یا قطب S است.

خاصیت مغناطیسی زمین: زمین نیز مانند یک آهن ربا ی بزرگ دایمی، دارای خاصیت مغناطیسی است. منشأ خاصیت مغناطیسی کره زمین هنوز با قطعیت کامل معلوم نیست. اما برخی از دانشمندان وجود آن را به حرکت چرخشی نسبی مواد مذاب باردار در هسته زمین نسبت می‌دهند. به هر حال خاصیت مغناطیسی زمین به گونه‌ای است که می‌توان در نظر گرفت که یک آهن ربا ی فرضی درون زمین طوری قرار گرفته است که قطب جنوب آن در شمال جغرافیایی و قطب شمال آن در جنوب جغرافیایی زمین واقع شده است.

نیروی مغناطیسی: برهم‌کنش (نیروی) بین قطب‌های آهن ربا را نیروی مغناطیسی می‌نامند. آزمایش نشان می‌دهد که قطب‌های همنام یک آهن ربا یک‌دیگر را می‌رانند و قطب‌های ناهمنام، هم‌دیگر را می‌ربایند.

مثال ۱: دو میله کاملاً مشابه، یکی از جنس آهن و دیگری آهن ربا در اختیار داریم. چگونه می‌توان بدون استفاده از هیچ وسیله دیگری، آهن ربا را از آهن تشخیص داد؟

۲) مماس بر خطوط میدان در هر نقطه، راستای میدان را در آن نقطه نشان می‌دهد.

۳) سوی خطوط میدان، سوی میدان را نشان می‌دهد. خطوط میدان همواره از قطب N خارج و به قطب S وارد می‌شوند. به همین دلیل گاهی قطب N را «چشمه خطوط مغناطیسی» و قطب S را «چاهک خطوط مغناطیسی» نیز می‌نامند.

۴) خطوط میدان همدیگر را قطع نمی‌کنند.

۵) خطوط میدان مغناطیسی، خطوط بسته‌ای هستند، به این معنی که هر خط میدان که از قطب N خارج شده و به قطب S وارد می‌شود، در داخل آهن‌ربا نیز امتداد یافته و از قطب S به سمت قطب N خواهد بود. این گفته همچنین بدین معنی است که: «در طبیعت تک قطبی مغناطیسی وجود ندارد».

نکته ۲: اگر به قطب N یک آهن‌ربای میله‌ای با سطح مقطع دایره‌ای، از مقابل طوری نگاه کنیم که یک دایره ببینیم، خطوط میدان خارج شده از قطب N را به شکل برون‌سو خواهیم دید. و اگر به قطب S این آهن‌ربا به همان صورت نگاه کنیم، خطوط میدان وارد شده به قطب S را به شکل درون‌سو می‌بینیم. خطوط برون‌سو را با نماد \odot و خطوط درون‌سو را با نماد \otimes نشان می‌دهیم.

میدان مغناطیسی یکنواخت: میدانی است که اندازه و جهت آن در تمام نقاط، یکسان باشد. خطوط میدان مغناطیسی یکنواخت به صورت خطوط راست موازی با فواصل مساوی از یکدیگر رسم می‌شوند.

نیروی الکترومغناطیسی: نیروی وارد از طرف میدان مغناطیسی بر بارهای الکتریکی متحرک و یا سیم‌های حامل جریان الکتریکی را نیروی الکترومغناطیسی می‌نامند. یکی از ویژگی‌های نیروی الکترومغناطیسی آن است که این نیرو هم بر راستای میدان مغناطیسی و هم بر راستای حرکت بار (و یا جریان الکتریکی) عمود است.

نیروی الکترومغناطیسی وارد بر سیم جریان‌دار: اگر سیم راستی که از آن جریان مستقیم I می‌گذرد، در میدان مغناطیسی یکنواختی به بزرگی B قرار بگیرد، از طرف میدان بر آن نیرویی وارد می‌شود که اندازه آن از رابطه زیر به دست می‌آید:


$$F = IlB \sin \alpha$$

در این رابطه l طولی از سیم است که در داخل میدان مغناطیسی قرار دارد و α زاویه بین راستای میدان و راستای جریان است.

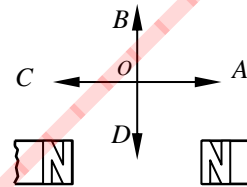
حالت خاص ۱: اگر راستای سیم با راستای میدان مغناطیسی موازی باشد، ($\sin \alpha = 0 \rightarrow \alpha = 180^\circ$ یا $\alpha = 0^\circ$) در این صورت نیرویی بر سیم وارد نمی‌شود.

نکته ۱: برای تعیین جهت میدان در یک نقطه، همچنین می‌توان یک تک‌قطبی مغناطیسی فرضی N را در آن نقطه قرار داد و جهت نیروی وارد بر آن را مشخص کرد.

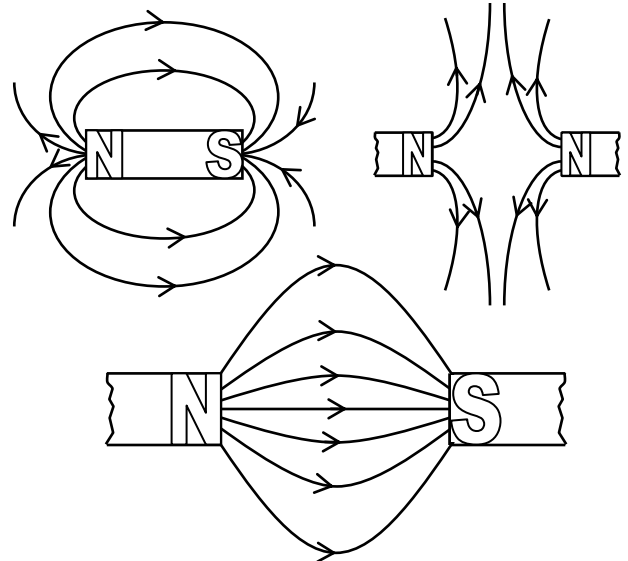
مثال ۴: چهار نقطه A, B, C, D روی یک صفحه قرار دارند و آهن‌ربای تیغه‌ای NS نیز روی همین صفحه است. در کدام نقطه میدان مغناطیسی حاصل از آهن‌ربا، تقریباً درست نشان داده شده است؟



مثال ۵: جهت عقربه مغناطیسی در نقطه O را تعیین کنید.



خطوط میدان مغناطیسی: برای تجسم میدان مغناطیسی در فضای اطراف آهن‌رباها و ... از یک ابزار ترسیمی و هندسی به نام خطوط میدان مغناطیسی استفاده می‌کنیم. برای رسم خطوط میدان، یک عقربه مغناطیسی را در نقاط مختلف قرار داده و جهت میدان را در آن نقاط یافته و سپس جهت‌های به دست آمده را امتداد داده و به هم وصل می‌کنیم. به عنوان مثال خطوط میدان زیر را در نظر می‌گیریم:



ویژگی‌های خطوط میدان مغناطیسی: با توجه به شکل‌های فوق، ویژگی‌های زیر را برای خطوط میدان مغناطیسی نتیجه می‌گیریم:

۱) تراکم خطوط در هر نقطه نشان‌دهنده بزرگی میدان در آن نقطه است. یعنی هر جا که خطوط به یکدیگر نزدیک‌ترند، میدان در آنجا قوی‌تر است و برعکس.

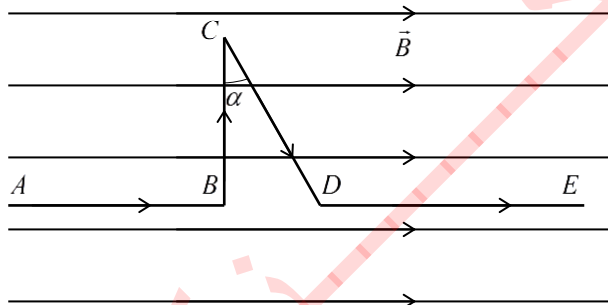
مثال ۶: سیمی به طول ۲ متر در میدان مغناطیسی یکنواخت $(T) = 0.04$ قرار دارد. اگر جریان $(A) = 5$ از سیم بگذرد، بیشترین نیروی وارد از طرف میدان مغناطیسی بر سیم چقدر است؟

مثال ۷: از سیم راستی به طول ۲ متر که به‌طور قائم در یک میدان مغناطیسی یکنواخت و افقی به بزرگی 0.02 تسلا قرار دارد، جریان ۱۰ آمپری از بالا به پایین عبور می‌دهیم. اگر جهت میدان از شمال به جنوب باشد، اندازه و جهت نیروی وارد بر سیم را مشخص کنید.

مثال ۸: سیم راستی به طول 0.5 متر که از آن جریان ۱ آمپری می‌گذرد، عمود بر خطوط میدان مغناطیسی یکنواختی به بزرگی 0.1 تسلا قرار دارد. اگر جهت میدان رو به شمال و جهت جریان رو به شرق باشد، نیروی وارد بر سیم چند نیوتون و در چه جهتی خواهد بود؟

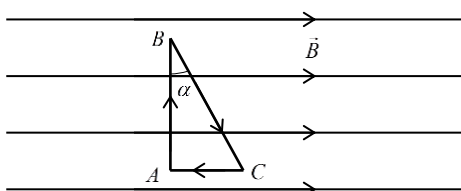
مثال ۹: سیم راستی به طول 1 m و جرم 10 gr به‌طور افقی در راستای مشرق-مغرب عمود بر یک میدان مغناطیسی یکنواخت به بزرگی 0.2 T قرار گرفته است. که آن نیز افقی و در راستای جنوب به شمال می‌باشد، قرار گرفته است. شدت جریانی که از سیم می‌گذرد، چند آمپری و در چه سویی باشد تا نیروی الکترومغناطیسی حاصل، وزن سیم را خنثی کند؟

مثال ۱۰: در شکل زیر $(T) = 0.15$ و $(A) = 5$ و $\alpha = 37^\circ$ است. نیروی وارد بر هر قطعه از سیم را حساب کنید.
 $\sin 53^\circ = 0.8$ و $\sin 37^\circ = 0.6$



$$AB = 24\text{ cm}, BC = 16\text{ cm}, CD = 20\text{ cm}, DE = 30\text{ cm}$$

مثال ۱۱: در شکل زیر، بزرگی میدان مغناطیسی $(T) = 0.15$ است. بزرگی و جهت نیروی الکترومغناطیسی وارد بر هر ضلع مثلث را که حامل جریان $I = 5A$ است، مشخص کنید. ($\alpha = 37^\circ$)



$$AB = 40\text{ cm}, BC = 50\text{ cm}, \sin 37^\circ = 0.6$$

حالت خاص ۲: اگر راستای سیم بر راستای میدان مغناطیسی عمود باشد، ($\alpha = 90^\circ \rightarrow \sin \alpha = 1$) در این صورت بیشترین نیروی ممکن بر سیم وارد می‌شود:

$$F_{\max} = IlB$$

تعریف کمی میدان مغناطیسی: اگر این رابطه را به‌صورت $B = \frac{F_{\max}}{Il}$ بنویسیم، می‌توان «اندازه» میدان مغناطیسی را به‌صورت زیر تعریف کنیم: بزرگی میدان مغناطیسی در هر نقطه دلخواه، برابر است با نیرویی که بر یک متر از طول سیمی که عمود بر راستای میدان قرار گرفته و جریانی به شدت یک آمپری از آن می‌گذرد، وارد می‌شود.

یکاهای میدان مغناطیسی: یکای میدان مغناطیسی در سیستم بین‌المللی یکاها، تسلا نام دارد. تسلا را با T نشان می‌دهند. در کاربردهای عملی از واحد کوچک‌تری به نام گاوس (G) برای سنجش میدان استفاده می‌شود. رابطه بین گاوس و تسلا عبارت است از:

$$1(T) = 10^4(G) \quad \text{و} \quad 1(G) = 10^{-4}(T)$$

تعریف تسلا: یک تسلا بزرگی میدان مغناطیسی است که اگر سیمی به طول یک متر و حامل جریانی به شدت یک آمپری، به‌طور عمود بر راستای میدان، در آن قرار بگیرد، بر آن نیرویی به بزرگی یک نیوتون وارد شود. یعنی:

$$1(T) = \frac{1(N)}{1(A) \times 1(m)}$$

تعیین جهت نیروی وارد بر سیم جریان‌دار در میدان مغناطیسی: آزمایش‌های اورستد نشان دادند که نیروی الکترومغناطیسی وارد بر سیم راست حامل جریان در میدان مغناطیسی یکنواخت، هم بر راستای میدان و هم بر راستای جریان عمود است. برای تعیین سوی این نیرو از قاعده زیر که به «قانون دست راست» معروف است، استفاده می‌کنیم.

قانون (قاعده) دست راست برای تعیین جهت نیروی وارد بر سیم حامل جریان در میدان: مراحل زیر را دنبال می‌کنیم:

- چهار انگشت دست راست خود را در جهت جریان I در سیم، نگه می‌داریم.
- در همان حال، کف دست راست خود را به سمت میدان مغناطیسی B می‌گیریم.
- جهت انگشت شست کاملاً کشیده شده، جهت نیروی F را نشان خواهد داد.

نکته ۳: این قاعده را می‌توان به صورت زیر نیز بیان کرد: دست راست خود را باز نگه می‌داریم و چهار انگشت آن را در جهت جریان به گونه‌ای می‌گیریم که اگر انگشتان خود را خم کنیم، در جهت میدان مغناطیسی قرار بگیرند، در این حالت انگشت شست جهت نیرو را نشان خواهد داد.

نیروی الکترومغناطیسی وارد بر بار متحرک در داخل میدان: اگر ذره‌ای با بار الکتریکی q با سرعت V درون میدان مغناطیسی یکنواختی به بزرگی B در حال حرکت باشد، از طرف میدان بر آن نیرویی وارد می‌شود که اندازه آن از رابطه زیر به دست می‌آید:

$$F = qVB \sin \alpha$$

در این رابطه α زاویه بین راستای میدان و راستای سرعت ذره باردار است.

حالت خاص ۱: اگر راستای سرعت بار با راستای میدان مغناطیسی موازی باشد، $\sin \alpha = 0 \rightarrow \alpha = 180^\circ$ یا $\alpha = 0^\circ$ در این صورت نیرویی بر ذره باردار وارد نمی‌شود.

حالت خاص ۲: اگر راستای حرکت ذره باردار بر راستای میدان مغناطیسی عمود باشد، $\sin \alpha = 1 \rightarrow \alpha = 90^\circ$ در این صورت بیشترین نیروی ممکن بر بار وارد می‌شود:

$$F_{\max} = qVB$$

تعیین جهت نیروی وارد بر بار متحرک مثبت در میدان مغناطیسی: آزمایش نشان می‌دهد که نیروی الکترومغناطیسی وارد بر بار متحرک در میدان مغناطیسی یکنواخت، هم بر راستای میدان و هم بر راستای حرکت بار عمود است. برای تعیین سوی این نیرو نیز از قاعده «دست راست» دیگری به شرح زیر، استفاده می‌کنیم:

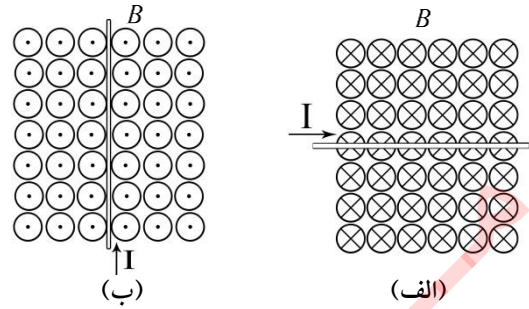
قاعده دست راست برای بار الکتریکی متحرک در میدان: مراحل زیر را دنبال می‌کنیم:

۱. چهار انگشت دست راست خود را در جهت سرعت V ذره باردار مثبت، نگاه می‌داریم.
۲. در همان حال، کف دست راست خود را به سمت میدان مغناطیسی B می‌گیریم.
۳. جهت انگشت شست کاملاً کشیده شده، جهت نیروی F وارد بر بار مثبت را نشان خواهد داد.

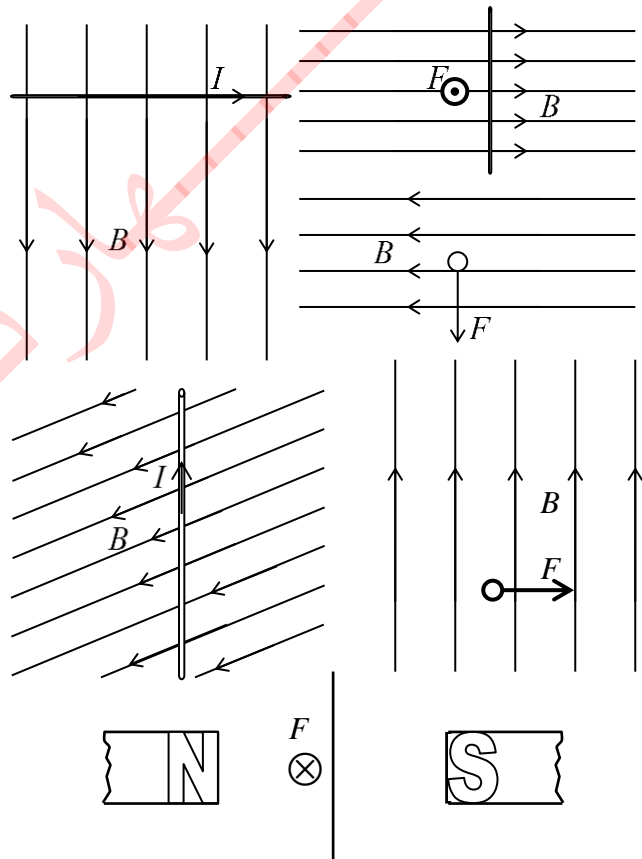
نکته ۴: این قاعده را هم می‌توان به صورت زیر بیان کرد: دست راست خود را باز نگاه می‌داریم و چهار انگشت آن را در جهت حرکت بار مثبت به گونه‌ای می‌گیریم که اگر انگشتان خود را خم کنیم، در جهت میدان مغناطیسی قرار بگیرند، در این حالت انگشت شست جهت نیروی وارد بر بار مثبت را درون میدان مغناطیسی نشان خواهد داد.

نیروی وارد بر بار منفی متحرک در میدان مغناطیسی: بر بار منفی متحرک در داخل میدان مغناطیسی، نیرو در «خلاف جهت» بار مثبت وارد می‌شود.

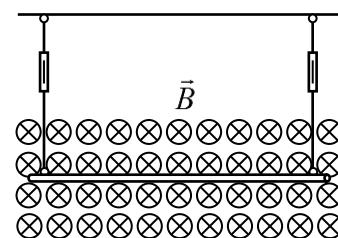
مثال ۱۲: در شکل‌های زیر جهت نیروی الکترومغناطیسی وارد بر سیم طویل حامل جریان در داخل میدان مغناطیسی یکنواخت را مشخص کنید.



مثال ۱۳: در شکل‌های زیر سیم حامل جریان الکتریکی در داخل میدان مغناطیسی قرار دارد. در هر مورد، جهت داده نشده را بیابید.

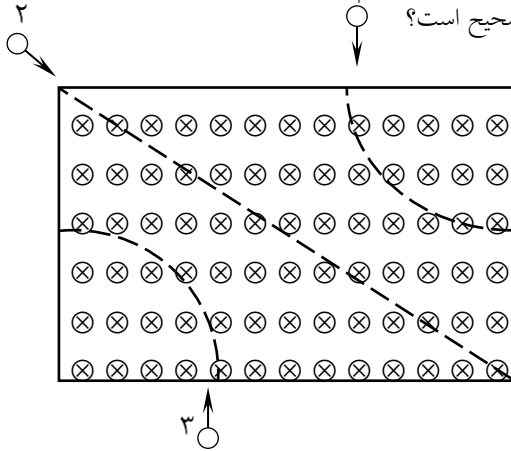


مثال ۱۴: در یک میدان مغناطیسی به بزرگی 40 گاوس، سیمی به طول 10 سانتی‌متر و به جرم 2 گرم توسط دو نخ آویزان است. چه جریانی و در کدام جهت از سیم عبور کند تا هر دو نیروسنج عدد صفر را نشان دهند؟



مثال ۲۳: یک میدان مغناطیسی عمود بر صفحه کاغذ و درون سو وجود دارد. هرگاه بر ذره‌ای که با سرعت در جهت محور x ها در حرکت است، نیرویی در خلاف جهت محور y ها اثر کند، این ذره چه می‌تواند باشد؟
(الف) آلفا (ب) الکترون (ج) پروتون (د) نوترون

مثال ۲۴: سه ذره جداگانه در یک میدان مغناطیسی درون سو پرتاب شده‌اند و مسیر حرکت آنها مطابق شکل است. کدام گزینه درباره ذره‌های ۱، ۲ و ۳ صحیح است؟



- (الف) مثبت، خنثی، منفی
(ب) منفی، خنثی، مثبت
(ج) مثبت، خنثی، مثبت
(د) منفی، خنثی، مثبت

آثار جریان برق: به‌طور کلی جریان الکتریکی سه اثر مهم دارد: اثر گرمایی، اثر شیمیایی و اثر مغناطیسی.

اثر مغناطیسی جریان برق: ثابت شده است که میدان مغناطیسی در نتیجه حرکت بارهای الکتریکی به‌وجود می‌آید. به‌این ترتیب، هنگامی که بار الکتریکی ساکن است، در اطرافش فقط یک میدان الکتریکی وجود دارد؛ اما اگر همین بار به حرکت درآید، در فضای اطرافش، هم میدان الکتریکی و هم میدان مغناطیسی وجود خواهد داشت. از آنجایی که در یک سیم رسانای حامل جریان، بارهای الکتریکی در حال حرکتند، انتظار داریم در فضای اطراف سیم جریان‌دار نیز میدان مغناطیسی وجود داشته باشد. آزمایش نشان می‌دهد که چنین میدانی در اطراف رساناهای حامل جریان الکتریکی، وجود دارد. به عبارت دیگر هر سیم جریان‌دار مانند نوعی آهن‌ربا رفتار می‌کند. سه حالت زیر را در نظر می‌گیریم:

(۱) **میدان مغناطیسی ناشی از سیم راست جریان‌دار:** اگر از سیم راستی به‌طول بی‌نهایت زیاد جریان مستقیم I بگذرد، در هر نقطه دلخواهی به فاصله R از آن میدان مغناطیسی از رابطه:

$$B = \frac{\mu_0 I}{2\pi R}$$

به‌دست می‌آید. در این رابطه μ_0 مقدار ثابتی است که گذردهی (تراوایی) مغناطیسی خلاء نام دارد و اندازه آن برابر است با:

$$\mu_0 = 4\pi \times 10^{-7} \left(\frac{T.m}{A} \right)$$

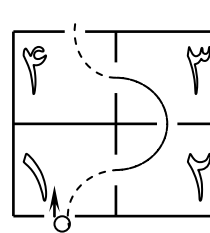
مثال ۱۵: میدان مغناطیسی یکنواخت $(T) 3 \times 10^{-4}$ موازی سطح کاغذ و به طرف راست وجود دارد. پروتونی با سرعت $(m/s) 5 \times 10^6$ در راستای عمود بر سطح کاغذ به طرف داخل پرتاب می‌شود. اندازه و جهت نیروی وارد بر پروتون را حساب کنید.

مثال ۱۶: ذره‌ای به جرم 8 gr و بار الکتریکی $5 \mu C$ با سرعت $m/s 4 \times 10^5$ در میدان مغناطیسی یکنواخت $0.2 T$ حرکت می‌کند.
(الف) اگر راستای حرکت بار با خطوط میدان زاویه 53° بسازد، نیروی وارد بر آن چقدر است؟
(ب) شتاب ذره را با چشم‌پوشی از وزن آن حساب کنید.

مثال ۱۷: نیروی وارد بر ذره باردار مثبت واقع در میدان مغناطیسی زمین که به طور قائم از بالا به پایین حرکت می‌کند، به کدام سمت است؟
(الف) جنوب (ب) شمال (ج) شرق (د) غرب
مثال ۱۸: اگر یک دسته الکترون در راستای افقی به طرف شما بیاید و ضمن عبور از یک میدان مغناطیسی به طرف چپ منحرف شود، میدان مغناطیسی به کدام سمت است؟
(الف) پایین (ب) بالا (ج) راست (د) چپ

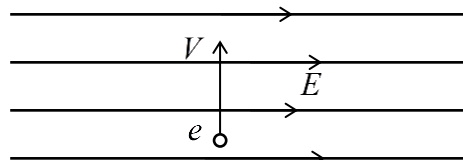
مثال ۱۹: ذره‌ای به جرم $(gr) 0.5$ دارای بار الکتریکی $(C) 2/5 \times 10^{-8}$ است. سرعت اولیه ذره در جهت مشرق و افقی $(m/s) 4 \times 10^4$ است. جهت و کمترین اندازه میدان مغناطیسی که قادر است مسیر ذره را همان جهت مشرق و افقی نگاه دارد، را به دست آورید.

مثال ۲۰: یک ذره آلفا $(q = +2e \text{ و } m = 4p)$ از شمال به جنوب در حرکت است. این ذره به‌طور عمود وارد میدان مغناطیسی یکنواختی به بزرگی $(T) 2 \times 10^{-4}$ می‌شود. اندازه سرعت ذره و جهت میدان مغناطیسی را به گونه‌ای تعیین کنید که ذره بدون انحراف از میدان بگذرد.

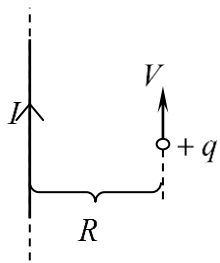


مثال ۲۱: مطابق شکل مقابل، ذره‌ای با بار منفی وارد یک منطقه چهار قسمتی می‌شود و در مسیر نشان داده شده حرکت می‌کند. در هر ناحیه، جهت میدان مغناطیسی را تعیین کنید.

مثال ۲۲: مطابق شکل، الکترونی از میدان الکتریکی یکنواخت E عبور می‌کند. برای آنکه ذره بدون انحراف از این میدان بگذرد، از میدان مغناطیسی یکنواخت B استفاده شده است. جهت میدان مغناطیسی را تعیین کنید.

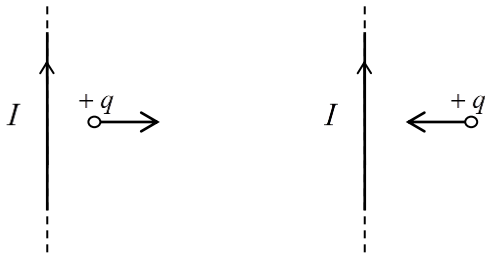


مثال ۳۲: از سیم راست و بلند شکل زیر جریان ۲۰ آمپر می‌گذرد و در فاصله R از سیم میدان مغناطیسی $(T) 4 \times 10^{-3}$ می‌باشد.



الف) فاصله R چقدر است؟
ب) جهت میدان را در نقطه A تعیین کنید.
ج) اگر بار الکتریکی $q = +4 \mu C$ در فاصله R با سرعت $(m/s) 2 \times 10^4$ به موازات سیم در حرکت باشد، بزرگی و جهت نیروی وارد بر بار را به دست آورید.

مثال ۳۳: در هر یک از دو شکل زیر، جهت نیروی وارد بر بار الکتریکی را با ذکر دلیل، مشخص کنید.

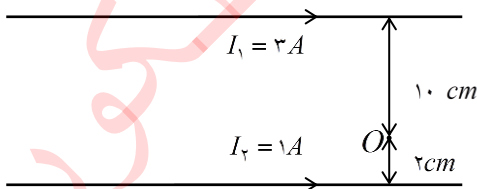


مثال ۳۴: مثال فوق را یک بار دیگر برای بار منفی حل کنید.

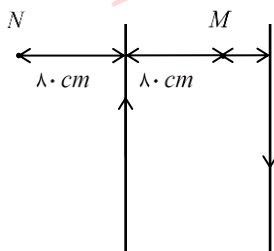
میدان مغناطیسی برآیند دو یا چند سیم موازی جریان‌دار: اگر دو یا چند سیم موازی حامل جریان را در نظر بگیریم، میدان مغناطیسی برآیند در هر نقطه دلخواه واقع بر صفحه گذرنده از این دو سیم، برابر جمع برداری میدان‌های ناشی از هر کدام از سیم‌ها است.

مثال ۳۵: از دو سیم که در فاصله ۲ متر از هم قرار دارند، جریان‌های ۶ و ۴ آمپر در خلاف جهت یکدیگر می‌گذرند. اندازه میدان مغناطیسی را در نقطه M وسط فاصله بین دو سیم تعیین کنید.

مثال ۳۶: در شکل زیر، جهت و بزرگی میدان مغناطیسی برآیند، حاصل از جریان‌های I_1 و I_2 را در نقطه O تعیین کنید.



مثال ۳۷: دو رشته سیم راست و موازی به فاصله ۱۲۰ سانتی‌متر از هم قرار دارند و از هر یک جریانی به شدت $0.4 A$ در دو جهت مخالف عبور می‌کند. میدان مغناطیسی کل را در نقاط M و N حساب کنید.



مثال ۲۵: یک ناظر نسبت به الکترونی در حرکت است. اسباب‌های اندازه‌گیری او را نشان می‌دهند.

الف) فقط یک میدان الکتریکی

ب) فقط یک میدان مغناطیسی

ج) هم میدان الکتریکی و هم مغناطیسی

د) بسته به سرعت ناظر، میدان الکتریکی یا مغناطیسی

مثال ۲۶: میدان مغناطیسی در ۵ سانتی‌متری سیم راست و بلندی که از آن جریان ۲۰ آمپر می‌گذرد، چند تسلا است؟

مثال ۲۷: جریان الکتریکی به شدت ۲ آمپر از سیمی نازک و مستقیم می‌گذرد. بزرگی میدان مغناطیسی حاصل در چه فاصله‌ای از سیم برابر $(T) 2 \times 10^{-4}$ است؟

مثال ۲۸: بزرگی میدان مغناطیسی حاصل از جریانی که از سیم دراز و نازکی عبور می‌کند، در فاصله ۲ میلی‌متری از سیم، برابر $(T) 2 \times 10^{-4}$ است. شدت جریان عبوری از سیم چند آمپر است؟

تعیین «جهت» میدان مغناطیسی ناشی از سیم موازی جریان‌دار: برای تعیین جهت این میدان از «قاعده دست راست» دیگری به شرح زیر استفاده می‌کنیم:

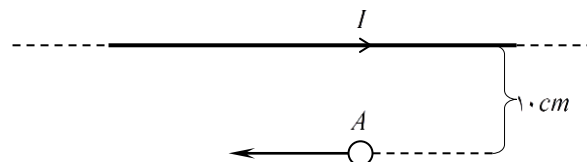
۱. سیم حامل جریان را در دست راست خود طوری می‌گیریم که انگشت شست در جهت جریان الکتریکی باشد.

۲. جهت خم شدن چهار انگشت به دور سیم، جهت میدان حاصل را نشان خواهد داد.

مثال ۲۹: سیمی در راستای شمال و جنوب کشیده شده است و جریانی از سوی شمال به جنوب از آن می‌گذرد. میدان مغناطیسی حاصل از جریان در یک نقطه بالای این سیم در کدام جهت است؟

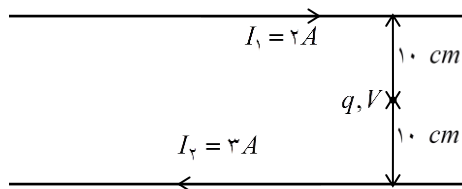
مثال ۳۰: از یک سیم افقی که در راستای شرقی-غربی کشیده شده است، جریان الکتریکی از شرق به غرب عبور می‌کند. میدان مغناطیسی در یک نقطه بالای این سیم در کدام جهت است؟

مثال ۳۱: الکترونی از نقطه A در جهت نشان داده شده در شکل، به طور موازی با سیم حامل جریان $I = 4A$ ، با سرعت $2 \times 10^5 m/s$ شلیک می‌شود. بزرگی و جهت نیروی وارد بر الکترون را بلافاصله بعد از شلیک آن حساب کنید.

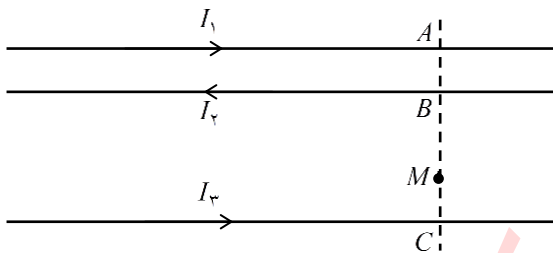


مثال ۴۴: از دو سیم مستقیم و موازی به ترتیب جریان‌های I و $3I$ در دو جهت مخالف می‌گذرد. بزرگی میدان مغناطیسی برآیند در نقطه M وسط دو سیم برابر B است. اگر جهت جریان I را تغییر دهیم، بزرگی میدان مغناطیسی در همان نقطه چند برابر B خواهد شد؟

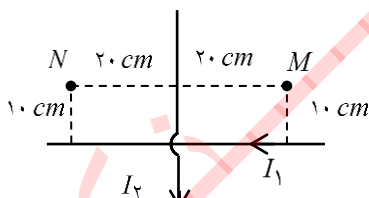
مثال ۴۵: ذره‌ای با بار $1\mu C$ - و سرعت $2 \times 10^5 (m/s)$ به موازات دو سیم و بین آنها به سمت راست حرکت می‌کند. اندازه و جهت نیروی الکترومغناطیسی وارد بر ذره باردار را تعیین کنید.



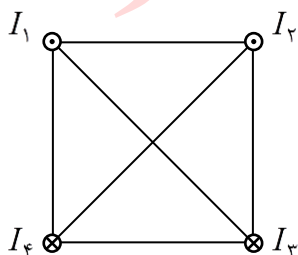
مثال ۴۶: در شکل زیر، $I_1 = 12A$ ، $I_2 = 16A$ و $I_3 = 3A$ است. اگر $BC = 6cm$ و $MC = 2cm$ و $AB = 2cm$ باشد، اندازه و جهت میدان را در نقطه M حساب کنید.



مثال ۴۷: دو سیم بسیار طویل حامل جریان‌های $I_1 = 10A$ و $I_2 = 6A$ به صورت عمود بر هم در یک صفحه قرار دارند. میدان مغناطیسی برآیند را در نقاط M و N بیابید.



مثال ۴۸: چهار سیم حامل جریان به موازات یکدیگر و عمود بر صفحه کاغذ در چهار رأس مربعی به ضلع $a = 4cm$ قرار دارند. میدان مغناطیسی برآیند را در مرکز مربع به دست آورید.



$$I_1 = I_2 = 10A$$

$$I_3 = 20A \quad I_4 = 30A$$

مثال ۳۸: در حالت کلی، مکان هندسی نقاطی را بیابید که میدان مغناطیسی برآیند ناشی از دو سیم راست موازی حامل جریان‌های:

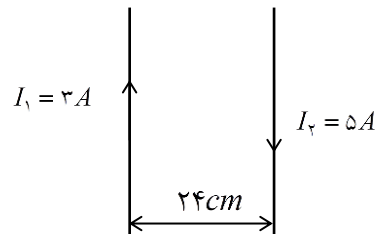
(الف) هم‌سو
(ب) ناهم‌سو
در آن نقاط برابر صفر باشد.

مثال ۳۹: از دو سیم راست و موازی A و B به ترتیب جریان‌های $2(A)$ و $3(A)$ در یک جهت می‌گذرد. در کدام نقطه برآیند میدان‌های مغناطیسی حاصل از دو سیم صفر است؟

(الف) بین دو سیم، نزدیک سیم A
(ب) خارج از فاصله دو سیم، نزدیک سیم A
(ج) بین دو سیم و نزدیک سیم B
(د) خارج از فاصله دو سیم، نزدیک سیم B

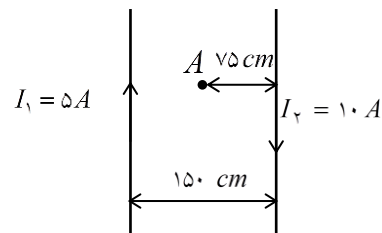
مثال ۴۰: از دو سیم مستقیم و موازی A و B جریان‌های $15(A)$ و $5(A)$ در دو جهت مخالف می‌گذرد. اگر میدان مغناطیسی حاصل از دو جریان در نقطه‌ای در صفحه دو سیم و به فاصله $10cm$ از سیم B برابر صفر باشد، فاصله دو سیم از هم چقدر است؟

مثال ۴۱: از دو رشته سیم راست و موازی جریان‌هایی به شدت $3A$ و $5A$ در خلاف جهت یکدیگر عبور می‌کنند. در چه فاصله‌ای از سیم I_1 برآیند میدان‌های مغناطیسی حاصل از دو سیم صفر است؟



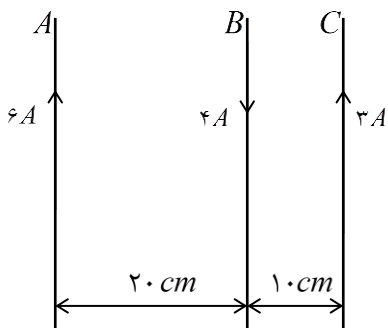
مثال ۴۲: از دو سیم راست و موازی و بسیار بلند، جریان‌هایی مطابق شکل می‌گذرد.

(الف) بزرگی میدان مغناطیسی برآیند را در نقطه A حساب کنید.
(ب) در چه فاصله‌ای از سیم I_2 میدان مغناطیسی برآیند صفر می‌شود؟

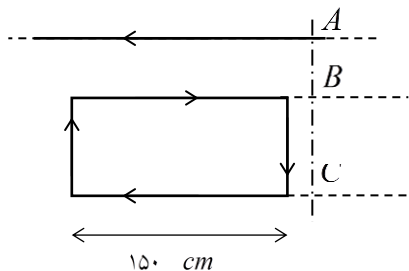


مثال ۴۳: از دو سیم مستقیم و موازی جریان‌های الکتریکی مساوی در دو جهت مخالف می‌گذرد. بزرگی میدان مغناطیسی حاصل از دو جریان در نقطه M وسط دو سیم برابر B است. اگر یکی از سیم‌ها را به اندازه $\frac{d}{4}$ به دیگری نزدیک کنیم، بزرگی میدان مغناطیسی در همان نقطه چند برابر B خواهد شد؟

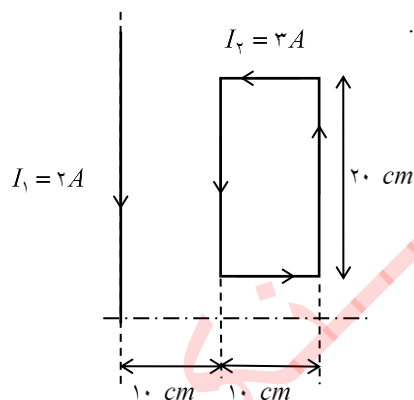
مثال ۵۲: در شکل زیر، بزرگی و جهت نیرویی که از طرف دو سیم A و B بر 10 سانتی متر از سیم C وارد می شود را تعیین کنید.



مثال ۵۳: از سیم راست بی نهایت دراز شکل زیر جریان $10(A)$ می گذرد. از حلقه مستطیلی جریان $20(A)$ می گذرد. اندازه و جهت نیروی وارد بر حلقه مستطیلی را بیابید. $AB = 30\text{ cm}$ $BC = 50\text{ cm}$



مثال ۵۴: در شکل مقابل، سیم راست و بلندی در کنار یک قاب مستطیل شکل که شامل یک دور سیم است و هر دو در صفحه کاغذ قرار دارند، می باشد. از هر یک از آنها جریان ثابتی می گذرد. اندازه و نوع نیروی وارد بر قاب را بیابید.



(۲) میدان مغناطیسی ناشی از پیچه دایره ای مسطح جریان دار: پیچه، شکلی است که از پیچیده شدن فشرده چندین دور سیم نازک روپوش دار به دور یک حلقه معمولاً دایره ای تشکیل می شود. پیچه را مسطح می نامیم اگر بتوان از ضخامت آن در مقایسه با شعاع، صرف نظر کرد. اگر از یک پیچه جریان الکتریکی مستقیم I عبور کند، در فضای اطراف آن میدان مغناطیسی B ایجاد می شود که می توان اندازه آن را در مرکز پیچه از رابطه مقابل محاسبه کرد:

$$B = \frac{\mu_0 NI}{2R}$$

در این رابطه N عده دورهای پیچه و R شعاع آن است.

نیروی الکترومغناطیسی بین سیم های موازی جریان دار: اگر دو سیم راست موازی حامل جریان های I_1 و I_2 همسو (یا ناهمسو) در مجاورت یکدیگر و به فاصله d از هم قرار بگیرند، بر هر یک از این دو سیم از طرف میدان مغناطیسی سیم دیگر نیروی الکترو مغناطیسی وارد می شود. با استفاده از شکل های زیر می توان نتیجه گرفت که این نیرو برای سیم های با جریان های همسو، جاذبه و برای سیم های با جریان های ناهمسو، دافعه است. همچنین برای محاسبه اندازه نیروی وارد بر هر سیم، ابتدا با استفاده از رابطه $B = \frac{\mu_0 I}{2\pi R}$ ، میدان مغناطیسی ناشی از سیم دیگر را در محل سیم مورد نظر یافته و سپس با کمک رابطه $F = I l B \sin \alpha$ ، نیروی وارد بر آن را حساب می کنیم:

$$B_1 = \frac{\mu_0 I_1}{2\pi d} \Rightarrow F_1 = I_2 l B_1 = \frac{\mu_0 I_1 I_2 l}{2\pi d}$$

همچنین:

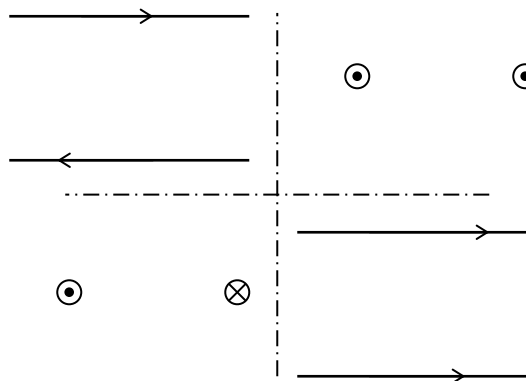
$$B_2 = \frac{\mu_0 I_2}{2\pi d} \Rightarrow F_2 = I_1 l B_2 = \frac{\mu_0 I_1 I_2 l}{2\pi d}$$

نکته ۵: همان طور که دیده می شود، بزرگی نیروی وارد از طرف سیم ۱ بر سیم ۲ با بزرگی نیروی وارد از طرف سیم ۲ بر سیم ۱ برابر است. این مطلب را با استفاده از قانون سوم نیوتون نیز می توان نتیجه گرفت.

تعریف عملیاتی آمپر: یک آمپر جریانی است که اگر از دو سیم راست موازی و بی نهایت دراز، که به فاصله ۱ متر از هم در خلاء قرار دارند، عبور کند، بر هر متر از طول این سیم ها، نیرویی به اندازه $2 \times 10^{-7} (N)$ وارد شود.

مثال ۴۹: آزمایشی طراحی کنید که به وسیله آن بتوان نیروی بین سیم های راست و بلند موازی حامل جریان را نشان داد.

مثال ۵۰: در هر یک از شکل های زیر، جهت نیروی الکترومغناطیسی وارد بر هر یک از سیم ها را با ذکر دلیل مشخص کنید.



مثال ۵۱: از سیم راست و نازکی، جریانی به شدت $10 A$ عبور می کند. اگر سیم بلند و نازک دیگری در فاصله 20 سانتی متری آن حامل جریان $2A$ باشد، چه نیرویی بر واحد طول آن وارد می شود؟

تعیین جهت میدان مغناطیسی پیچه مسطح: جهت میدان مغناطیسی در پیچه را با دو روش زیر می توان تعیین کرد:

الف) قاعده دست راست مشابه با سیم راست حامل جریان، بدین ترتیب که پیچه را در دست راست خود طوری نگاه می داریم که انگشت شست جهت جریان را نشان دهد. در این حالت جهت حلقه شدن چهار انگشت به دور سیم، جهت میدان را در درون پیچه نشان خواهد داد.

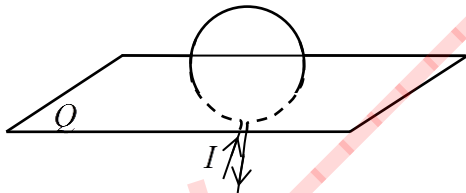
ب) با استفاده از شکل زیر طوری به پیچه از مقابل نگاه می کنیم که یک دایره ببینیم. اگر جهت جریان در پیچه از دید ما پادساعتگرد باشد، میدان در وجهی از پیچه که در طرف ما قرار دارد، برون سو (و بنابراین، آن وجه قطب N) و اگر جریان ساعتگرد باشد، میدان درون سو (و آن وجه قطب S) خواهد بود.



نکته ۸: برای به خاطر سپردن بهتر جهت های فوق، از نمادهای زیر استفاده می کنیم:



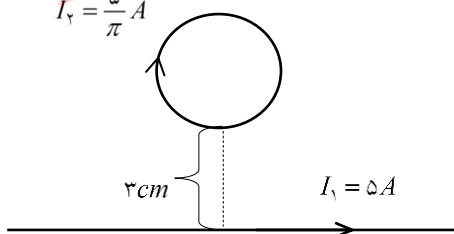
مثال ۶۰: در شکل زیر با توجه به جهت جریان الکتریکی در حلقه، خطوط میدان مغناطیسی حاصل را روی صفحه Q (به صورت دایره ای) رسم کنید. بزرگی میدان در کدام ناحیه بیشتر است؟



پرسش ۱: چگونه می توان پیچه ای ساخت که با وجود آن که جریان الکتریکی از آن می گذرد، اما آثار مغناطیسی از خود نشان نمی دهد؟

مثال ۶۱: در شکل زیر حلقه به قطر 4 cm و سیم راست بلند، منطبق بر صفحه کاغذ می باشند و از هر یک جریان الکتریکی ثابتی می گذرد. میدان مغناطیسی حاصل را در مرکز حلقه به دست آورید.

$$I_1 = \frac{5}{\pi} A$$



نکته ۶: اگر طول سیم به کار رفته در ساختن پیچه را برابر L بگیریم، می توان رابطه زیر را برای تعیین تعداد دورهای پیچه مورد استفاده قرار داد:

$$N = \frac{L}{2\pi R}$$

نکته ۷: الزاماً عدد صحیح نیست و حتی می تواند کوچک تر از یک نیز باشد.

مثال ۵۵: از پیچه مسطحی به شعاع $6/28\text{ cm}$ که از 20 دور سیم نازک تشکیل شده است، جریانی به شدت 5 آمپر می گذرد. اندازه میدان مغناطیسی را در مرکز پیچه به دست آورید.

مثال ۵۶: از سیمی به طول 157 سانتی متر که به صورت حلقه دایره ای درآمده است، جریان 2 آمپر می گذرد. میدان مغناطیسی حاصل از جریان را در مرکز حلقه به دست آورید.

مثال ۵۷: از سیمی به طول L پیچه ای مسطح به شعاع 5 سانتی متر و به تعداد N دور درست می کنیم. اگر جریان الکتریکی گذرنده از این پیچه را به اندازه $\frac{2}{\pi}$ کاهش دهیم، بزرگی میدان مغناطیسی در مرکز آن به اندازه $G/4$ کاهش می یابد.

الف) تعداد دورهای پیچه را به دست آورید.

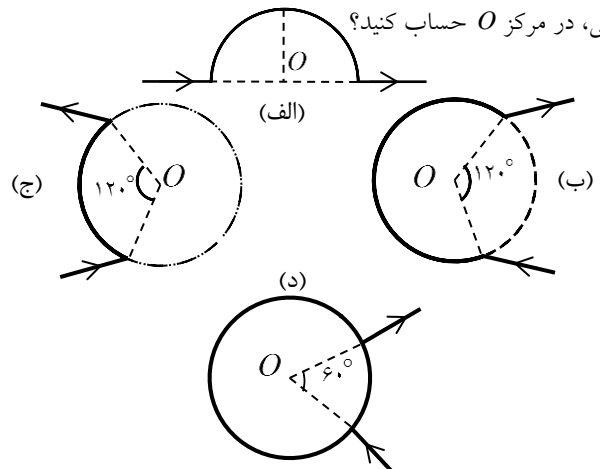
ب) طول سیم را حساب کنید.

مثال ۵۸: سیمی به طول L در اختیار داریم. اگر این سیم را به شکل یک حلقه دایره ای درآوریم و جریان I از آن عبور دهیم، بزرگی میدان مغناطیسی در مرکز آن برابر B می شود. اگر همین سیم را به صورت پیچه مسطحی با N حلقه درآوریم، میدان مغناطیسی در اثر عبور همان جریان، در مرکز سیم پیچ، برابر B' می شود. کدام گزینه صحیح است؟

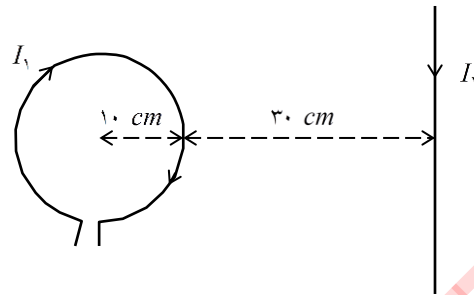
الف) $B' < B$ ب) $B' = B$

ج) $B' > B$ د) هر سه گزینه می تواند صحیح باشد.

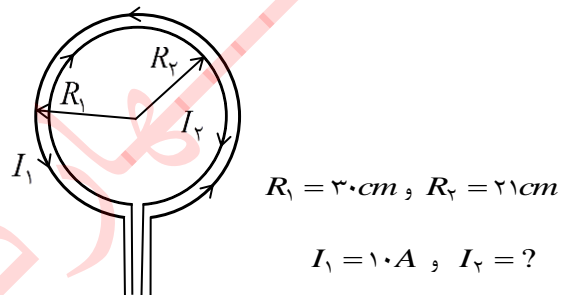
مثال ۵۹: در هر یک از شکل های زیر، میدان مغناطیسی را در حالت کلی، در مرکز O حساب کنید؟



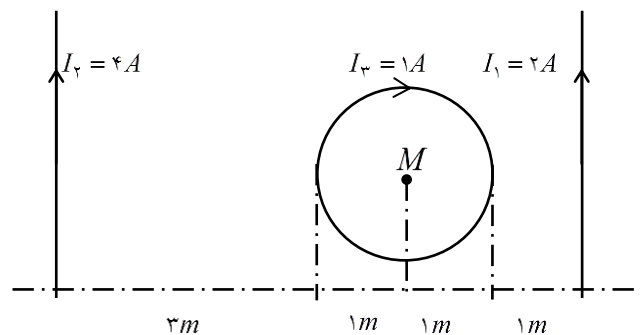
مثال ۶۲: در شکل زیر از پیچه جریان $I_1 = 10A$ و از سیم راست جریان $I_2 = 20A$ می‌گذرد. برآیند میدان‌های مغناطیسی حاصل را در مرکز پیچه به دست آورید. ($\pi \approx 3$)



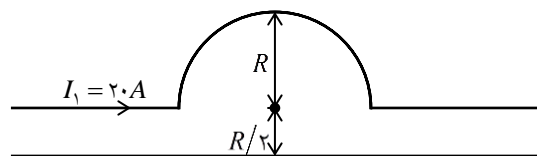
مثال ۶۳: شکل زیر دو پیچه مسطح هم‌صفحه و هم‌مرکز را نشان می‌دهد که جریان‌هایی در جهت‌های مخالف هم از آنها عبور می‌کند. اگر شدت جریان در پیچه بزرگ‌تر ۱۰ آمپر باشد، از پیچه کوچک‌تر، چه جریانی باید عبور کند تا برآیند میدان‌های مغناطیسی دو پیچه در مرکز برابر صفر شود؟



مثال ۶۴: در شکل زیر بزرگی میدان مغناطیسی را در نقطه M (مرکز حلقه) حساب کنید.



مثال ۶۵: در شکل زیر، شعاع نیم‌دایره حامل جریان R است و میدان مغناطیسی برآیند در مرکز نیم‌دایره صفر است. جهت و اندازه جریان را در سیم راست و بلند تعیین کنید. ($\pi \approx 3$)



مثال ۶۶: سیم راستی بر محور پیچه‌ای دایره‌ای منطبق است. اگر جریان $5A$ از سیم راست و جریان $2A$ آمپر از پیچه عبور کند بر 10 سانتی‌متر از سیم راست چه نیرویی وارد خواهد شد؟

$$B = \frac{\mu_0 N I}{l}$$

در این رابطه N عده دورها و l طول سیمولوله است.

نکته ۹: اگر تعداد دور سیم در واحد طول سیمولوله را با n نشان دهیم، خواهیم داشت:

$$n = \frac{N}{l}$$

در این صورت، رابطه میدان در سیمولوله به شکل زیر نوشته می‌شود:

$$B = \mu_0 n I$$

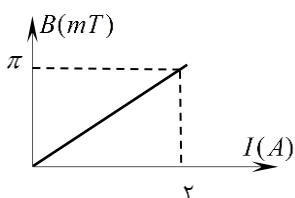
مثال ۶۷: از سیمولوله‌ای که در هر 4 سانتی‌متر طول خود دارای 200 دور سیم است، جریان 5 آمپر می‌گذرد. بزرگی میدان مغناطیسی را در محور سیمولوله به دست آورید. ($\pi \approx 3$)

مثال ۶۸: درون سیمولوله‌ای به طول 40 سانتی‌متر که جریان 10 آمپر از آن می‌گذرد، بزرگی میدان مغناطیسی $9/42$ میلی‌تسلا است. این سیمولوله چند حلقه دارد؟

مثال ۶۹: الف) از سیمولوله‌ای به طول 4 سانتی‌متر، که دارای 400 حلقه سیم روکش دار است، چه جریانی عبور دهیم تا بزرگی میدان مغناطیسی در درون سیمولوله $2\pi \times 10^{-2}$ تسلا شود؟

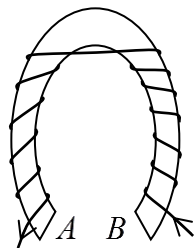
ب) الکترونی در فضای داخلی این سیمولوله با سرعت $3 \times 10^4 m/s$ طوری در حرکت است که بردار سرعتش با راستای میدان مغناطیسی، زاویه 30° می‌سازد. بزرگی نیروی وارد بر الکترون را محاسبه کنید.

مثال ۷۰: می‌خواهند سیمولوله‌ای به شکل استوانه‌ای به طول $20 cm$ و قطر $5 cm$ بسازند، چنانکه میدان مغناطیسی در ناحیه مرکزی آن به ازای عبور جریان $1/5 A$ برابر با $0/2 T$ شود. به ترتیب چند دور و چند متر سیم لازم است؟



مثال ۷۱: نمودار شکل مقابل، مربوط به سیمولوله‌ای به طول $0/5$ متر است. شمار دورهای این سیمولوله چقدر است؟

مثال ۷۴: به دو سر میله آهنی U شکل سیم روپوش دار پیچیده و



جریانی مطابق شکل از سیم می‌گذرانیم. دو انتهای A و B این میله به ترتیب چه قطب‌های مغناطیسی خواهند شد؟

- (الف) N و N (ب) N و S
(ج) S و N (د) S و S

ویژگی‌های میدان ناشی از سیمولوله: سه ویژگی زیر را در مورد میدان

مغناطیسی سیمولوله حامل جریان تشخیص می‌دهیم:

۱. میدان مغناطیسی در داخل سیمولوله با صرف نظر از لبه‌های آن، یکنواخت و موازی با محور سیمولوله است.
۲. میدان در داخل سیمولوله، به مراتب، قوی‌تر از خارج آن است.
۳. سوی میدان در داخل و خارج سیمولوله در خلاف جهت یکدیگر است. (میدان در خارج سیمولوله از قطب N سیمولوله به S آن و در داخل از S به N است).

هسته آهنی سیمولوله: میله آهنی که در داخل سیمولوله قرار می‌گیرد را هسته سیمولوله می‌نامند. وجود هسته آهنی باعث تقویت خطوط میدان مغناطیسی در داخل سیمولوله می‌شود. اندازه این تقویت، بسته به جنس و شکل هسته می‌تواند تا چند برابر باشد. این نسبت را با ضریبی به نام تراوایی (گذردهی) نسبی مغناطیسی هسته k نشان می‌دهند. بنابراین میدان مغناطیسی در داخل سیمولوله‌ای که هسته داشته باشد، از رابطه زیر به دست می‌آید:

$$B = k \frac{\mu_0 NI}{l}$$

آهن ربای الکتریکی: اگر یک هسته آهنی درون سیمولوله حامل جریان قرار دهیم، میدان مغناطیسی درون سیمولوله، در داخل هسته نیز خاصیت مغناطیسی القا کرده و هسته آهنی را آهن‌ریا می‌کند. این آهن‌ریا را آهن‌ربای الکتریکی می‌نامند. خاصیت مغناطیسی در هسته آهنی با قطع شدن جریان سیمولوله فوراً از بین می‌رود. از آهن‌ربای الکتریکی در صنعت در ساخت جرثقیل‌های برقی و ... استفاده می‌شود.

خاصیت مغناطیسی مواد: مواد را به‌طور کلی به دو دسته مواد مغناطیسی و مواد غیر مغناطیسی تقسیم‌بندی می‌کنند:

مواد غیرمغناطیسی: موادی هستند که اجزاء سازنده آنها (مولکول‌ها و اتم‌ها) خاصیت مغناطیسی ندارند. چوب، پلاستیک، شیشه و ... از جمله مواد غیرمغناطیسی هستند.

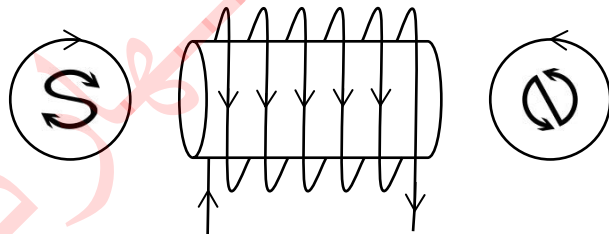
مواد مغناطیسی: موادی هستند که اجزاء سازنده آنها خاصیت مغناطیسی دارند. این اجزاء دوقطبی مغناطیسی نامیده می‌شوند.

تعیین جهت میدان سیمولوله: جهت میدان مغناطیسی در درون سیمولوله را نیز با سه روش زیر می‌توان تعیین کرد:

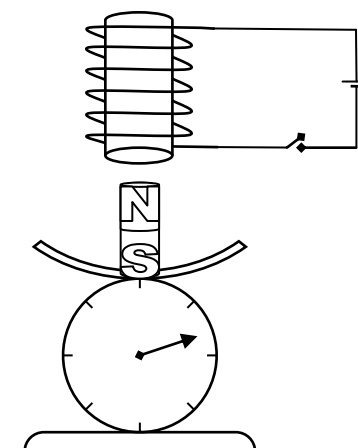
(الف) قاعده دست راست مشابه با سیم راست و پیچه حامل جریان، بدین ترتیب که سیم سیمولوله را در دست راست خود طوری نگاه می‌داریم که انگشت شست در جهت جریان باشد. در این حالت جهت حلقه‌شدن چهار انگشت به دور سیم، جهت میدان مغناطیسی را در درون سیمولوله نشان می‌دهد.

(ب) سطح استوانه‌ای سیمولوله را طوری در دست راست خود نگاه می‌داریم که جهت چرخش چهار انگشت جهت جریان را نشان دهد. در این حالت، انگشت شست، قطب N سیمولوله را نشان می‌دهد.

(ج) با استفاده از شکل زیر طوری به سیمولوله از پهلو نگاه می‌کنیم که یک دایره ببینیم. اگر جهت جریان در سیمولوله از دید ما پادساعتگرد باشد، وجهی از پیچه که در طرف ما قرار دارد، قطب N و اگر جریان ساعتگرد باشد، قطب S خواهد بود.

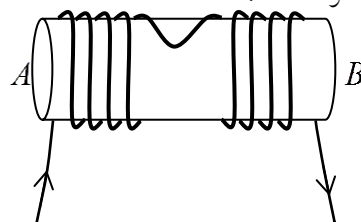


تمرین: هم‌ارزی سه روش فوق را در مورد چند مثال تحقیق کنید.



مثال ۷۲: در شکل مقابل آهن‌ربای میله‌ای بر روی یک ترازوی یک کفه‌ای (باسکولی) قرار گرفته و سیمولوله‌ای متصل به مولد جریان مستقیم در بالای آن است. اگر کلید مدار سیمولوله را ببندیم، پیش‌بینی کنید عددی که ترازو نشان می‌دهد چه تغییری خواهد کرد؟ چرا؟

مثال ۷۳: از سیمولوله‌ای که دارای هسته آهنی است، مطابق شکل جریان I می‌گذرد. دو انتهای A و B سیمولوله به ترتیب از راست به چپ به کدام قطب مغناطیسی تبدیل خواهند شد؟



- (الف) N و N
(ب) S و N
(ج) N و S
(د) S و S

انواع مواد فرومغناطیس: مواد فرومغناطیس را به دو دسته نرم و سخت تقسیم می‌کنند:

مواد فرومغناطیسی نرم: موادی هستند که خاصیت مغناطیسی را به آسانی (درمدت کوتاهی) به دست می‌آورند اما آن را به آسانی (به سرعت) نیز از دست می‌دهند. آهن خالص، نیکل خالص و کبالت خالص از جمله مواد فرومغناطیسی نرم هستند. از فرومغناطیس‌های نرم به عنوان هسته در آهن‌رباهای الکتریکی استفاده می‌شود.

مواد فرومغناطیسی سخت: موادی هستند که خاصیت مغناطیسی را به سختی (به کندی) به دست می‌آورند و آن را به سختی نیز از دست می‌دهند. (یعنی آن را تا مدت‌های طولانی در خود حفظ می‌کنند) فولاد و برخی از آلیاژهای دیگر از جمله مواد فرومغناطیسی سخت هستند. از فرومغناطیس‌های سخت در ساختن آهن‌رباهای دائمی استفاده می‌شود.

نکته ۱۰: آزمایش نشان می‌دهد که اگر دو میله آهنی و فولادی به طرز مشابهی، توسط نیروهای آهن‌ربا کننده مساوی، به آهن‌ربا تبدیل شوند، شدت خاصیت مغناطیسی در آهن، اندکی بیشتر از فولاد است.

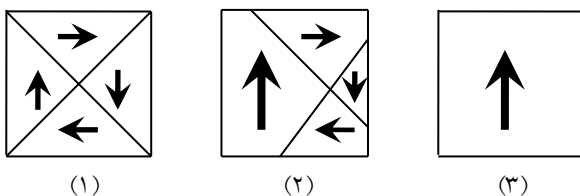
مواد دیامغناطیسی: این مواد نیز مانند مواد پارامغناطیس در حالت عادی مغناطیسی نیستند، اما در حضور میدان خارجی مثلاً در مجاورت یک آهن‌ربای قوی، اندک خاصیت مغناطیسی پیدا می‌کنند. با این تفاوت که در مواد دیامغناطیس، در اثر القای مغناطیسی، دافعه ایجاد می‌گردد، به گونه‌ای که نزدیک هر قطب آهن‌ربا که قرار بگیرند، دفع می‌شوند. بیسموت و آب نمونه‌هایی از مواد دیامغناطیسی هستند.

مثال ۷۵: کدام یک از مواد زیر اگر در میدان مغناطیسی خارجی قرار بگیرند، خاصیت مغناطیسی داخل آنها تقویت می‌شود؟

- الف) فرومغناطیس
- ب) پارامغناطیس
- ج) دیامغناطیس
- د) موارد الف و ب

مثال ۷۶: در مثال فوق، کدام یک از مواد گفته شده، اگر در میدان مغناطیسی خارجی قرار بگیرند، خاصیت مغناطیسی داخل آنها تضعیف می‌شود؟

مثال ۷۷: طرح‌واره‌های زیر از نظر مغناطیسی مربوط به چه نوع ماده‌ای هستند؟ (بزرگی و جهت میدان مغناطیسی خارجی را که جسم در آن قرار گرفته است، در هر مورد مشخص کنید).



دوقطبی مغناطیسی: کوچک‌ترین جزء سازنده مواد مغناطیسی (مولکول یا اتم) که خود دارای خاصیت مغناطیسی هستند و نوعی آهن‌ربای کوچک محسوب می‌شوند، دوقطبی مغناطیسی نام دارند. دوقطبی مغناطیسی را به صورت نمادین با یک پیکان که ابتدای آن قطب S و انتهای آن قطب n است، نشان می‌دهند.

محور مغناطیسی: خطی که دو قطب یک دوقطبی مغناطیسی را به هم وصل می‌کند، محور مغناطیسی نام دارد.

انواع مواد مغناطیسی: با توجه به نوع چینش و آرایش دوقطبی‌ها در مواد مغناطیسی، انواع مختلف مواد مغناطیسی به وجود می‌آیند. این مواد عبارتند از: مواد پارامغناطیس، مواد فرومغناطیس و مواد دیامغناطیس.

مواد پارامغناطیسی: در این مواد، دوقطبی‌های مغناطیسی به صورت نامنظم و کاتوره‌ای در کنار هم قرار گرفته‌اند، طوری که اثر مغناطیسی یکدیگر را خنثی کرده‌اند و ماده پارامغناطیس به طور کلی دارای خاصیت مغناطیسی نیست. اما اگر این ماده در میدان مغناطیسی قوی خارجی قرار بگیرد، دوقطبی‌های آن کمی با میدان خارجی هم‌خط شده و ماده خاصیت مغناطیسی اندکی پیدا می‌کند. با حذف میدان خارجی، این خاصیت نیز از بین می‌رود. منگنز، آلومینیوم، پلاتین، اکسیژن و ... از جمله مواد پارامغناطیس محسوب می‌شوند.

مواد فرومغناطیسی: مواد فرومغناطیس موادی هستند که دوقطبی‌های تشکیل دهنده آنها، به طور خودبه‌خود با یکدیگر هم‌خط می‌شوند. مواد فرومغناطیس از نواحی کوچکی به نام حوزه‌های مغناطیسی تشکیل شده‌اند. یک حوزه مغناطیسی، ناحیه کوچکی است که دوقطبی‌های مغناطیسی درون آن با یکدیگر هم‌خط، اما دوقطبی‌های هر حوزه با دوقطبی‌های حوزه‌های مجاور دارای سمت‌گیری‌های متفاوت هستند. در حالت عادی و در غیاب میدان مغناطیسی خارجی، اندازه و سمت‌گیری حوزه‌های مغناطیسی در یک ماده فرومغناطیس طوری است که اثر همدیگر را خنثی می‌کنند و ماده در مجموع فاقد خاصیت آهن‌ربایی است. اما در حضور میدان خارجی، حوزه‌های با سمت‌گیری مناسب رشد کرده و حجمشان زیاد شده و حوزه‌های دیگر کوچک می‌شوند.

مغناطش اشباع: اگر ماده فرومغناطیس در یک میدان مغناطیسی خارجی به قدر کافی بزرگ قرار بگیرد، همه دوقطبی‌های آن با یکدیگر هم‌خط می‌شوند و حجم حوزه‌های ناهمسو به صفر می‌رسد. در حالت مغناطش اشباع ماده فرومغناطیس بیشترین خاصیت مغناطیسی را دارد.

از بین بردن خاصیت مغناطیسی: برای از بین بردن خاصیت مغناطیسی مواد، می‌توان به آنها ضربه زد، آنها را ملتهب (گرم) کرد و یا داخل سیملوله‌ای حامل جریان متناوب قرار داد. در همه این حالت‌ها بهتر است راستای آهن‌ربا شرقی-غربی باشد تا میدان مغناطیسی زمین در آن مجدداً خاصیت مغناطیسی القا نکند.